
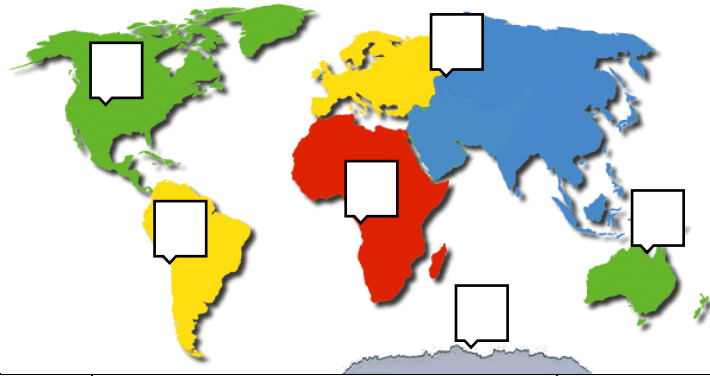


1. Подпишите названия материков. Установите соответствие материка с животным, которое там обитает. К каждому материкау подберите по одному животному.



Образец оформления ответа:

Порядковый номер	Название материка	Животное
1		
2		
3		
4		
5		
6		


2. Расположите планеты Солнечной системы по порядку удаления от Солнца:

1) Марс 2) Земля 3) Венера 4) Нептун 5) Меркурий

Образец оформления ответа:

--	--	--	--	--

3. Рассмотрите рисунки, прочитайте текст и сравните описания капусты и редьки. На основании описаний укажите хотя бы одно сходство и одно различие этих растений.



Капуста — двулетнее растение, сельскохозяйственная культура. В диком виде не встречается. В пищу употребляют листья, образующие кочан. Как правило, капусту выращивают рассадным способом. Готовую рассаду высаживают в открытый грунт. Кочан капусты обычно созревает через четыре-пять месяцев.

Культурные сорта редьки произошли от дикой формы — редьки приморской, распространённой по берегам Чёрного и Средиземного морей. Образующиеся в первый год корнеплоды используют в пищу в сыром виде. Культурная редька — морозоустойчивое растение. Её семена начинают прорастать при температуре 4 °С, всходы и взрослые растения переносят заморозки до –5 °С, поэтому семена этого растения можно высаживать уже в апреле.

Сходство:

Различие:

4. Каждая из иллюстраций, приведённых ниже, относится к одному из событий, связанных с историей России.

А. Основание Москвы Б. Полтавская битва В. Великая Отечественная война Г. Первый полет человека в космос

Установите соответствие между событиями, иллюстрациями, датами, историческими деятелями: к каждому событию подберите по одной иллюстрации, дате и историческому деятелю из списка.

1) 	2) 
3) 	4) 

5) 1945 6) Петр Первый 7) 1147 8) Юрий Гагарин 9) Георгий Жуков
 10) 1961 11) Юрий Долгорукий 12) 1709

Образец оформления ответа:

Событие	Иллюстрация	Дата	Исторический деятель
А			
Б			
В			
Г			

5. 2018 год объявлен Годом культурного наследия в Европе. Назовите одного известного вам деятеля культуры, жизнь которого связана с вашим регионом или населённым пунктом.

Ответ:

Приведите факт из жизни и деятельности этого человека, объясняющий причину его известности.

Ответ:
